

ふくしゅうプリント ④ 1まい目

1. けいさんをしましょう。

① $3+2=5$

② $2+8=10$

③ $9+4=13$

④ $7+5=12$

⑤ $10+6=16$

⑥ $20+70=90$

⑦ $91+4=95$

⑧ $4-2=2$

⑨ $6-0=6$

⑩ $10-5=5$

⑪ $13-3=10$

⑫ $17-8=9$

⑬ $50-30=20$

⑭ $64-3=61$

2. もんだいをよんで、しきとこたえをかきましょう。

① とりが、でんちゅうに15わ、とまっていました。そのうち、7わが、とんでいきました。のこりは、なんわでしょう。

しき $15-7=8$

こたえ 8わ

② ショートケーキが9つあります。チョコレートケーキは、ショートケーキより4つすくないそうです。チョコレートケーキは、いくつあるでしょう。

しき $9-4=5$

こたえ 5こ

③ え本が8さつあります。ずかんは、え本より、6さつおおいそうです。ずかんは、なんさつあるでしょう。

しき $8+6=14$


こたえ 14さつ


ふくしゅうプリント ④ 2まい目


3. () にあうかずを、かきましょう。

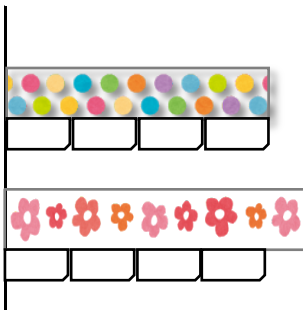
- ① 43は、10を(4)こと、1を(3)こ、あわせたかずです。
- ② (85)は、10を8こと、1を5こ、あわせたかずです。
- ③ 十のくらいが7、一のくらいが9のかずは、(79)です。
- ④ 10が、10こで、(100)です。
- ⑤ 98は、あと(2)で100になります。
- ⑥ 100より、20小さいかずは(80)です。

4. どちらが長いでしょう。長いほうに、まるをつけましょう。


①  (O) ()


②  () (O)


③  (O) (O)


④  あ () い (O)

5. どちらが水のりょうが、おいでしょう。おいほうに○をかきましょう。

①  () (O)

②  (O) ()

③  が3ばいぶん

④  が4ばいぶん

う () え (O)