

# ふくしゅうプリント ④ 1まい目

1. けいさんをしましょう。

①  $3+2=$

②  $2+8=$

③  $9+4=$

④  $7+5=$

⑤  $10+6=$

⑥  $20+70=$

⑦  $91+4=$

⑧  $4-2=$

⑨  $6-0=$

⑩  $10-5=$

⑪  $13-3=$

⑫  $17-8=$

⑬  $50-30=$

⑭  $64-3=$

2. もんだいをよんで、しきとこたえをかきましょう。

①とりが、でんちゅうに15わ、とまっていました。そのうち、7わが、とんでいきました。のこりは、なんわでしょう。

しき

こたえ

②ショートケーキが9つあります。チョコレートケーキは、ショートケーキより4つすくないそうです。チョコレートケーキは、いくつあるでしょう。

しき

こたえ

③え本が8さつあります。ずかんは、え本より、6さつおおいそうです。ずかんは、なんさつあるでしょう。

しき

こたえ

# ふくしゅうプリント ④ 2まい目

3. ( ) にあうかずを、かきましょう。

① 43は、10を( )こと、1を( )こ、あわせたかずです。

② ( )は、10を8こと、1を5こ、あわせたかずです。


③ 十のくらいが7、一のくらいが9のかずは、( )です。

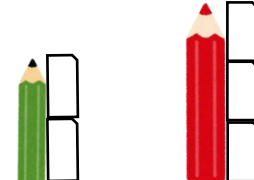
④ 10が、10こで、( )です。

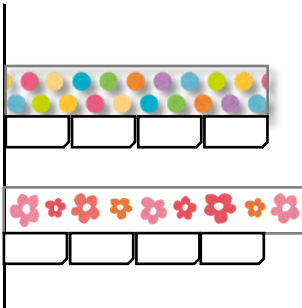
⑤ 98は、あと( )で100になります。

⑥ 100より、20小さいかずは( )です。


4. どちらが長いでしょう。長いほうに、まるをつけましょう。


①  ( ) ( )


②  ( ) ( )


③  あ ( ) い ( )

5. どちらがおおいでしょう。おおいほうに○をかきまし。

①  ( ) ( )

②  ( ) ( )

③  が3ばいぶん

④  が4ばいぶん

う ( ) え ( )