

## ふくしゅうプリント ② 1まい目

1. けいさんをしましょう。

①  $1+8=9$

②  $7+3=10$

③  $6+9=15$

④  $8+4=12$

⑤  $3+10=13$

⑥  $30+50=80$

⑦  $46+3=49$

⑧  $7-2=5$

⑨  $3-0=3$

⑩  $10-8=2$

⑪  $14-4=10$

⑫  $17-9=8$

⑬  $80-60=20$

⑭  $49-5=44$

2. もんだいをよんで、しきとこたえをかきましょう。

① バスに、18人のおきやくさんが、のっていました。バスでい、7人おりました。あとなん人、のこっているでしょう。

しき  $18-7=11$

こたえ 11人

② たかしさんとみうさんでいちごがりにいきました。

たかしさんは6こ、みうさんは4こ、いちごをたべました。ぜんぶで、なんこたべたでしょう。

しき  $6+4=10$

こたえ 10こ

③ おやつに小さなクッキーを5まいたべました。

すると、のこりが9まいになりました。

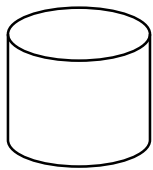
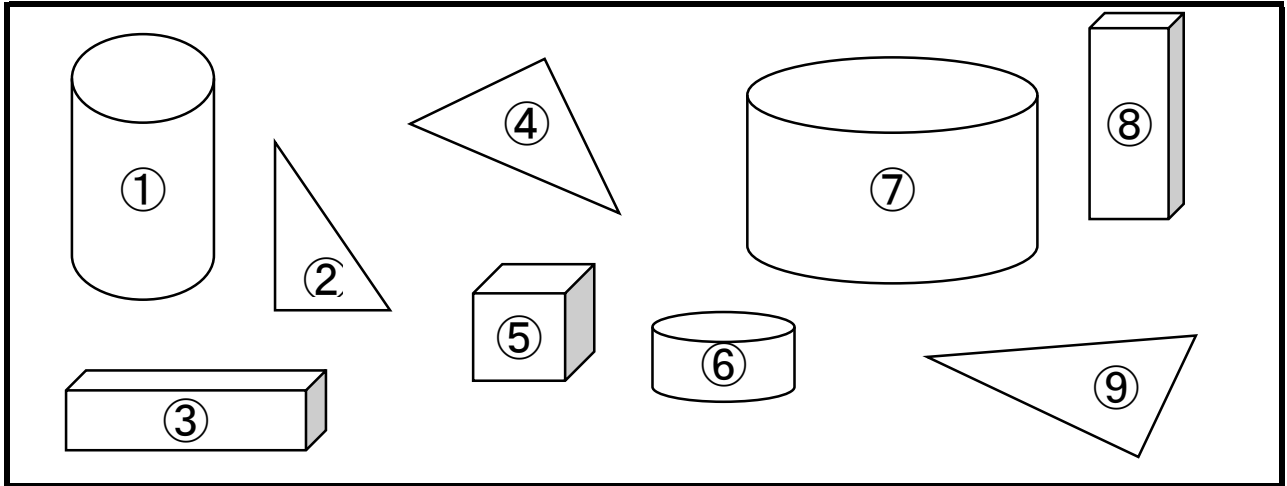
はじめにあったクッキーは、なんまいでしょう。

しき  $5+9=14$

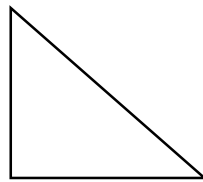
こたえ 14まい

## ふくしゅうプリント ② 2まい目

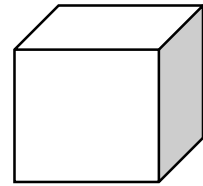
3. おなじかたちを見つけて、ばんごうを( )の中に、かきましよう。



のなかま




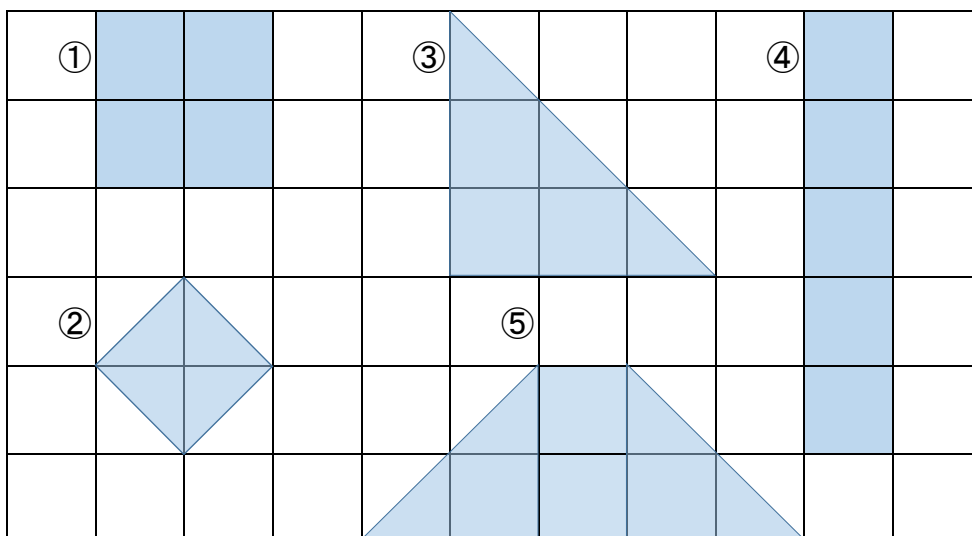
のなかま



のなかま

(①、⑥、⑦) (②、④、⑨) (③、⑤、⑧)

4.  のかたちを、なんまいつかうと、つぎのかたちができるでしょう。( )の中に、かきましよう。



① 8 まい

② 4 まい

③ 9 まい

④ 10 まい

⑤ 12 まい