

ふくしゅうプリント ② 1まい目

1. けいさんをしましょう。

① $1 + 8 =$

② $7 + 3 =$

③ $6 + 9 =$

④ $8 + 4 =$

⑤ $2 + 10 =$

⑥ $30 + 50 =$

⑦ $46 + 3 =$

⑧ $7 - 2 =$

⑨ $3 - 0 =$

⑩ $10 - 8 =$

⑪ $14 - 4 =$

⑫ $17 - 9 =$

⑬ $80 - 60 =$

⑭ $49 - 5 =$

2. もんだいをよんで、しきとこたえをかきましょう。

① バスに、18人のおきやくさんが、のっていました。バスでい、7人おりました。あとなん人、のこっているでしょう。

しき

こたえ

② たかしさんとみうさんでいちごがりにいきました。

たかしさんは6こ、みうさんは4こ、いちごをたべました。

ぜんぶで、なんこたべたでしょう。

しき

こたえ

③ おやつに小さなクッキーを5まいたべました。

すると、のこりが9まいになりました。

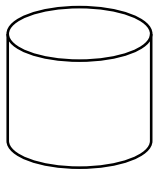
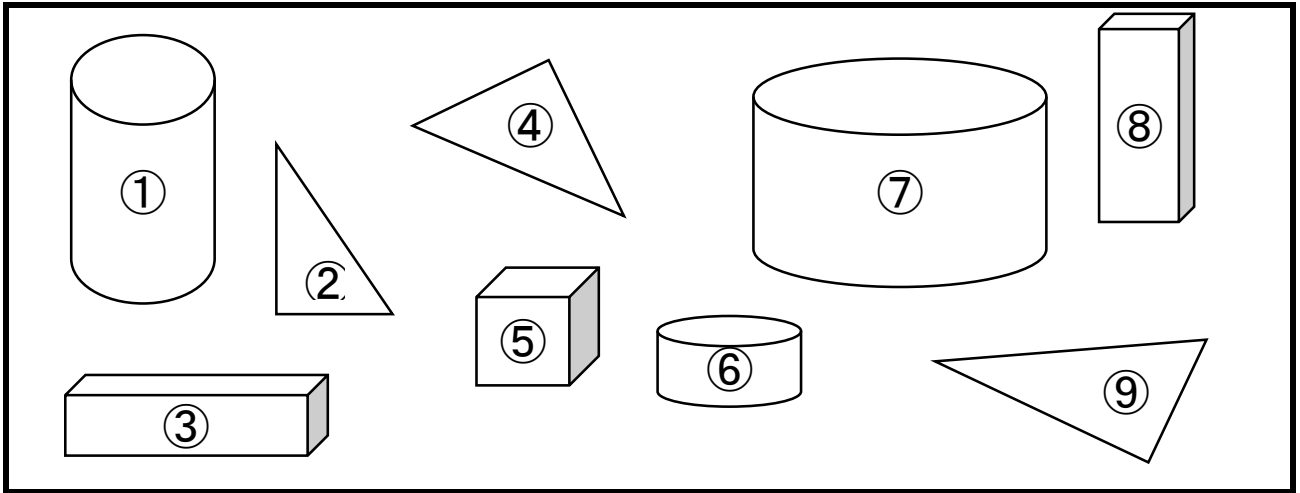
はじめにあったクッキーは、なんまいでしょう。

しき

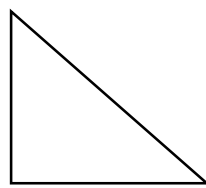
こたえ

ふくしゅうプリント ② 2まい目

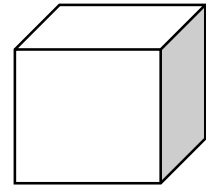
3. おなじかたちを見つけて、ばんごうを()の中に、かきましょう。



のなかま

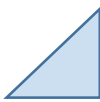


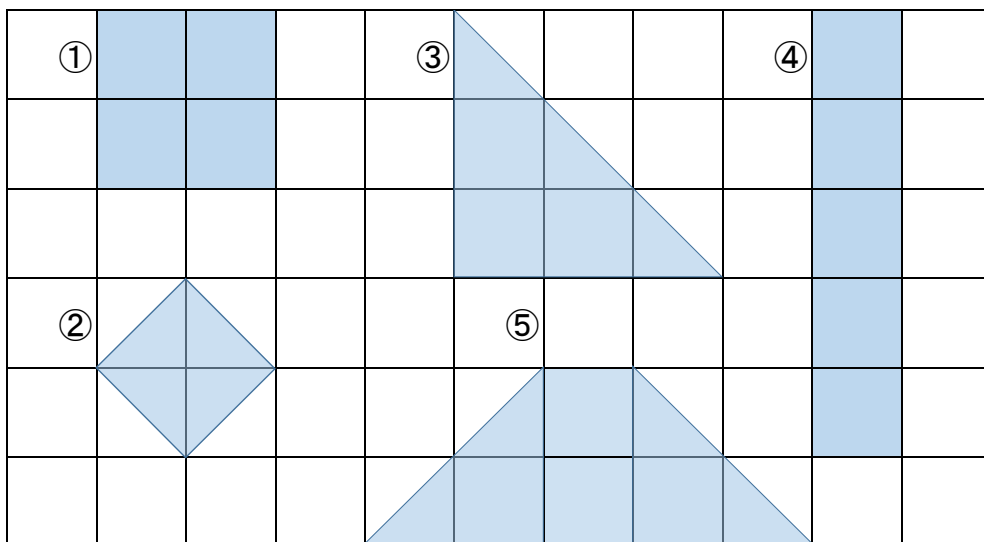
のなかま



のなかま

() () ()

4.  のかたちを、なんまいつかうと、つぎのかたちができるでしょう。()の中に、かきましょう。



- ① まい
- ② まい
- ③ まい
- ④ まい
- ⑤ まい